

Naam: .....

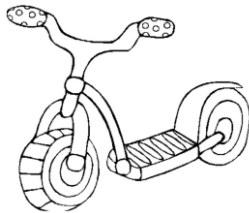
# Geld

## Schatten

1. Piet, Thijs en Koen kopen op de kermis allemaal een suikerspin. Ze betalen met een briefje van € 20,-. Hoeveel krijgen ze ongeveer terug?

**Koop nu een suikerspin  
voor maar € 1,95!**


2. Emma loopt in de speelgoedwinkel en wil een leesboek, een bal en een step kopen. Ze heeft € 47,- gespaard. Heeft ze genoeg geld om deze spullen te kopen?



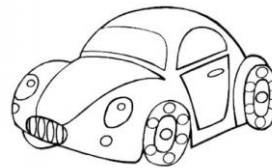
**Step**  
€ 24,95



**Pop**  
€ 7,50



**Bal**  
€ 8,45



**Speelgoedauto**  
€ 15,95



**Leesboek**  
€ 12,75

3. Matthijs loopt in dezelfde speelgoedwinkel als Emma. Hij koopt een bal en een speelgoedauto. Hij betaalt met een briefje van € 50,-. Hoeveel krijgt hij ongeveer terug?

4. Lisa gaat met haar vader, moeder, broertje en zusje wat drinken in een restaurant. Ze bestellen 2 koffie, 1 fristi, 1 cola en 1 chocomelk. Hoeveel moeten ze ongeveer betalen?

Koffie	€0,95
Thee	€0,95
Cola	€1,45
Fanta	€1,45
7-up	€1,45
Chocomelk	€1,95
Fristi	€1,95

5. Maik koopt voor hem en zijn vrienden 6 milkshakes. Hij geeft 1 briefje van €10,- en 1 briefje van €5,-. Hoeveel krijgt hij ongeveer terug?

**Milkshake**  
Nu voor maar € 1,89