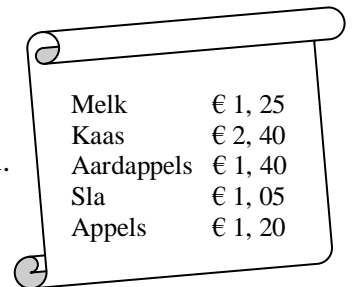


Naam:

Geld

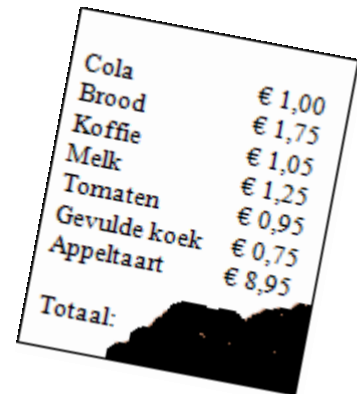
Contextsommen

1. Mark heeft €15,- van zijn moeder gekregen om eten te kopen in de supermarkt. Op het bonnetje staat wat hij voor ieder product heeft betaald. Hoeveel geld kan Mark teruggeven aan zijn moeder?



Melk	€ 1, 25
Kaas	€ 2, 40
Aardappels	€ 1, 40
Sla	€ 1, 05
Appels	€ 1, 20

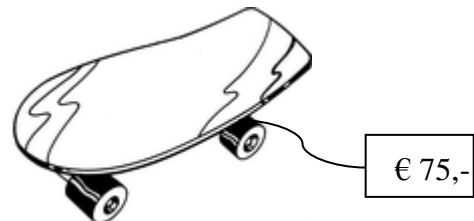
2. Bij de ijswinkel betaal je voor een softijsje €1,50. Sanne wil voor zichzelf en haar drie broertjes een ijsje kopen. Ze betaalt met een briefje van €10,-. Hoeveel geld krijgt Sanne terug?



Cola	
Brood	€ 1,00
Koffie	€ 1,75
Melk	€ 1,05
Tomaten	€ 1,25
Gevulde koek	€ 0,95
Appeltaart	€ 0,75
Totaal:	€ 8,95

3. Toen Anne boodschappen had gedaan, is het bonnetje op de grond gevallen. De bedragen van de producten zijn nog te lezen, maar het totaalbedrag is niet meer te zien. Hoeveel heeft Anne betaald voor de boodschappen?

4. Tom is aan het sparen voor een nieuw skateboard. Daarom heeft hij voor zijn verjaardag geld gevraagd. In totaal heeft hij € 59,75 gekregen. Hoeveel moet hij nog sparen om het skateboard te kunnen kopen?



5. Thijs gaat met zijn oma, opa, vader, moeder en broertje wat drinken in een restaurant. Ze bestellen 3 koffie, 2 Cola en één Fristi. Moeder betaalt met een briefje van € 10,-. Hoeveel geld krijgt ze terug?

Koffie	€ 1, 00
Thee	€ 1, 00
Cola	€ 1, 25
Fanta	€ 1, 25
7- up	€ 1, 25
Chocomelk	€ 1, 50
Fristi	€ 1, 50